


امتحانات الدورة الأولى خريف ٢٠٢٠ الفصل : الاول	اسم المقرر: الاموال		 الجامعة اللبنانية كلية الحقوق والعلوم السياسية والإدارة الفرع الثالث
	اسم الدكتور: رامي عبد الحي- غنى مواس		
مدة الامتحان: ساعة ونصف	تاريخ الامتحان: ١٦ ايلول ٢٠٢٠	قسم: الحقوق شعبة: A+B	

تعليمات هامة


- (١) على الطالب تسليم ورقة الاسئلة مع كراس الإجابة. كذلك يمنع الكتابة أو وضع اي إشارة على ورقة الاسئلة.
- (٢) على الطالب ان يتأكد، على مسؤوليته ، انه قد أستلم الكراس المخصص له (يحمل اسمه ورقم امتحانه) قبل ان يعمد المراقب الى لصقه.
- (٣) يجب على الطالب إبراز بطاقته الجامعية او وثيقة التعريف به طيلة مدة الامتحان تحت طائلة المسؤولية.

عالج المسألة الإلزامية التالية:

اعتاد التاجر وسيم على شراء بضاعته من بيروت ليعرضها في محله في طرابلس. توجه وسيم في الأول من آب عام ٢٠٢٠ إلى محطة الكرنيتينا في بيروت واشترى من التاجر "وفيق" خمسة أطنان من الدقيق على أن ترسل بعد أسبوع إلى محله في طرابلس بعد إخراجها من اهراءات القمح في مرفأ بيروت وتحميلها على ظهر شاحنة لإرسالها إلى طرابلس. كما اشترى وسيم في اليوم نفسه شقة في منطقة الجميزة في بيروت بموجب عقد موقع لدى كاتب بالعدل في الأشرفية وتم الاتفاق مع البائع "حسيب" على أن يتم التسجيل في السجل العقاري في الثامن اب. في الرابع من آب حصل انفجار مرفأ بيروت مما أدى إلى هلاك الإهراءات وتدمير المبنى حيث الشقة. من يتحمل خسائر الانفجار لناحية القمح؟ علّل. من يتحمل خسارة الشقة السكنية؟ علّل.

المدير

د. محمد علم الدين

امتحانات الدورة الأولى خريف ٢٠٢٠ الفصل : الاول	اسم المقرر: القانون الدستوري العام		 الجامعة اللبنانية كلية الحقوق والعلوم السياسية والإدارية الفرع الثالث
	اسم الدكتور: خالد الخير- ريما الادهمي		
مدة الامتحان: ساعة ونصف	تاريخ الامتحان: ١١ ايلول ٢٠٢٠	قسم: الحقوق شعبة: A+B	

تعليمات هامة


- (١) على الطالب تسليم ورقة الاسئلة مع كراس الإجابة. كذلك يمنع الكتابة أو وضع اي إشارة على ورقة الاسئلة.
- (٢) على الطالب ان يتأكد، على مسؤوليته ، انه قد أستلم الكراس المخصص له (يحمل اسمه ورقم امتحانه) قبل ان يعمد المراقب الى لصقه.
- (٣) يجب على الطالب إبراز بطاقته الجامعية او وثيقة التعريف به طيلة مدة الامتحان تحت طائلة المسؤولية.

عاجل الموضوع الإلزامي متبعا المنهجية المعتمدة:

يعتبر د.محمد المجذوب أن الأنظمة السياسية تقسم عادة إلى نوعين رئيسيين: الأنظمة الديمقراطية والأنظمة الديكتاتورية. وتقوم الأنظمة الديمقراطية على احترام الحقوق والحريات وعلى تطبيق مبدأ الفصل بين السلطات. غير أن الدول التي تبنت النظام الديمقراطي اختلفت في تفسيره وتطبيقه وتحديد مدى العلاقة التي يجب أن تقوم بين كل سلطة وسلطة أخرى في الدولة، وذلك من خلال القواعد الدستورية الموجودة في نص الدستور الذي يشكّل حجر الأساس في هذه الدول الديمقراطية. بناء على ذلك، إشرح كيف تتجلى الديمقراطية في الأنظمة السياسية المعاصرة.

المدير

د. محمد علم الدين

امتحانات الدورة الأولى خريف ٢٠٢٠ الفصل : الاول	اسم المقرر: منهجية العلوم القانونية	
	اسم الدكتور:	
مدة الامتحان: ساعة ونصف	تاريخ الامتحان: ايلول ٢٠٢٠	قسم: الحقوق شعبة: A+B

تعليمات هامة

- (١) على الطالب تسليم ورقة الاسئلة مع كراس الإجابة. كذلك يمنع الكتابة أو وضع اي إشارة على ورقة الاسئلة.
- (٢) على الطالب ان يتأكد، على مسؤوليته ، انه قد أستلم الكراس المخصص له (بحمل اسمه ورقم امتحانه) قبل ان يعمد المراقب الى لصقه.
- (٣) يجب على الطالب إبراز بطاقته الجامعية او وثيقة التعريف به طيلة مدة الامتحان تحت طائلة المسؤولية.

عالج مجموعة واحدة فقط من المجموعات التالية الدائرة حول الحكم القضائي التالي نصه:

محكمة الدرجة الاولى في البقاع - الغرفة الثانية- قرار رقم ٥٥ تاريخ ١١/١٣/٢٠٠٤ - جورج أبو رعد/الطبيب أ.أ. (العدل عدد ٤ سنة ٢٠٠٥ ص. ٨٥٩).

بناءً عليه، حيث ان المدعي يطلب الحكم بإعلان مسؤولية المدعى عليه الدكتور أ.أ. وبإلزامه بدفع نفقات المعالجة الاضافية في مستشفى الجامعة الاميركية وتكاليف عمليات الزرع وبدل العطل والضرر اللاحق بالطفل ميشال أبو رعد نتيجة إصابة يده اليسرى بعطل دائم. وحيث أن المدعى عليه يطلب رد الدعوى لعدم القانونية والصحة والثبوت.

وحيث أنه من الثابت من أقوال الطرفين ومن مجمل المستندات المبرزة في الملف ومن تقرير الخبير المعين من قبل المحكمة بهيئتها السابقة بتاريخ ١٩٩١/٤/٢٥ ما يلي: أنه مساء يوم ١٩٨٥/٢/١ أدخل الطفل ميشال ابو رعد إلى مستشفى تل شيحا زحلة إثر تعرضه لحادث أدى لإصابة يده اليسرى بكسور. بنفس التاريخ أجرى له الطبيب أ.أ. عملية جراحية وبعد بضع ساعات ظهرت بوادر الغرغرين على يده ومع ذلك سمح له الطبيب بالعودة إلى منزله. وفي ١٩٨٥/٢/١٢ لاحظ الوالد أموراً غير طبيعية فعاد وأدخل ابنه إلى مستشفى الجامعة الاميركية حيث بترت ثلاثة أصابع.

وحيث أن البحث لا يدور حول أهلية المدعى عليه الدكتور أ.أ. لإجراء العملية بل حول ما إذا كان قد ارتكب خطأ مولداً لمسؤوليته المدنية. وحيث أن من مسلمات العمل الطبي أن الطبيب يلتزم تجاه مريضه بأن يقدم له العناية والعلاج اللازمين بدقة وضمير حي وفقاً لأحدث المعطيات والمعايير العلمية والتقنية المعتمدة وحق تلقي العلاج والتي يتبعها كل طبيب متيقظ.

وحيث أنه إذا كان الموجب الملقى على عاتق الطبيب هو بشكل عام موجب وسيلة وليس موجب نتيجة فإن ذلك لا يعفيه من موجب التقيد بالالتزام المبين أعلاه ومن ضرورة منح مريضه جميع الفرص الممكنة لمعالجته ولمحاولة شفائه.

وحيث في الوضع الراهن أنه من الثابت بشكل قاطع أن بوادر الغرغرين بدأت تظهر بعد ساعات على العملية (إسوداد الأصابع/أقوال الممرضة) ورغم ذلك لم يتخذ المدعى عليه أي إجراء لتشخيص الحالة وأسبابها ومعالجتها لا بل تجاهلها ولم يتصد لها مع أن كل التقنيات كانت متوفرة ما يشكل شذوذاً واضحاً على السلوك السليم وتجاوزاً صريحاً لموجب العناية الملقى على عاتق الطبيب وخطأ مهنياً مولداً لمسؤولية المدعى عليه. لهذه الاسباب،

نحكم بالإجماع: باعتبار المدعى عليه مسؤولاً عن الضرر الذي لحق بالطفل ميشال وبالتالي إلزامه بأن يدفع مبلغ ٣٠٠٠٠٠٠٠ ل.ل. بمثابة عطل وضرر.

المجموعة الاولى:

- ١- عَدَد بنود البطاقة التعريفية، واستخرج فقط المراجع والوقائع المادية.
- ٢- تقسم الاحكام القضائية من الناحية الشكلية إلى قسمين (المواصفات العامة للأحكام والقرارات القضائية). ما هي؟ يبين هذه الاقسام في الحكم الوارد أعلاه، وحدد العبارة التي يبدأ فيها كل قسم. (نظرياً وتطبيقياً).
- ٣- ما الفرق بين التصرف القانوني والواقعة القانونية أو المادية، وأعط مثل.
- ٤- هناك إختصاصات كثيرة مكرّسة مأخوذة عن اللاتينية يتبعها المؤلفون عادةً، وهي ترمز إلى مصطلحات متعارف عليها في المجال القانوني. ترجم التعابير اللاتينية التالية إلى اللغة العربية، *opus citatum, Adde, idem, ibidem, infra, supra*.

المجموعة الثانية:

- ١- عنون نص الحكم أعلاه. (نظرياً وتطبيقياً).
- ٢- عَدَد بنود البطاقة التعريفية، واستخرج فقط المسألة القانونية والحيثية الاساسية.
- ٣- ما هي العناصر التعريفية التي يجب ذكرها عند الإشارة إلى هذا الحكم في سياق البحث، وما هو نوعه؟
- ٤- عرّف المصطلحات القانونية التالية: الجريدة الرسمية، الفقه، الاجتهاد.

المدير

د. محمد علم الدين

امتحانات الدورة الأولى (2019-2020) الفصل : الثاني	أسم المقرر: المباديء الاقتصادية		 الجامعة اللبنانية كلية الحقوق والعلوم السياسية والإدارية الفرع الثالث
	أسم الدكتور: محمد علم الدين، و خليل غزاوي		
مدة الامتحان : ساعة ونصف	الشعبة: A+ B	قسم: الحقوق	
تاريخ الامتحان : 14 أيلول 2020			

تعليمات هامة

- 1- على الطالب تسليم ورقة الاسئلة مع كراس الإجابة. كذلك يمنع الكتابة أو وضع اي إشارة على ورقة الاسئلة.
- 2- على الطالب ان يتأكد، على مسؤوليته، انه قد أستلم الكراس المخصص له (يحمل اسمه ورقم امتحانه) قبل ان يعمد المراقب الى لصقه.
- 3- يجب على الطالب إبراز بطاقته الجامعية او وثيقة التعريف به طيلة مدة الامتحان تحت طائلة المسؤولية.

المجموعه الأولى : إختار الجواب الصحيح (نصف علامة على الإجابة الصحيحة) (سبع علامات)

<p>2- عندما تصل المنفعة الكلية إلى أعلى قيمة لها فإن:</p> <p>a. المنفعة الحدية تبدأ بالتناقص.</p> <p>b. المنفعة الحدية تساوي الصفر.</p> <p>c. المنفعة الحدية تكون بالسالب</p> <p>d. المنفعة الحدية تتناقص بمعدل متزايد</p>	<p>1- تواجه المنشأة حالة تناقص الغلة عندما يبدأ الناتج الكلي بالتزايد بمعدل:</p> <p>a. متزايد</p> <p>b. متناقص</p> <p>c. ثابت</p> <p>d. أي شيء مما سبق</p>
<p>4- حسب نظرية المنفعة فإن نقطة التشبع يتم تحقيقها عندما تصبح:</p> <p>a. المنفعة الحدية صفر</p> <p>b. المنفعة الكلية صفر</p> <p>c. المنفعة الكلية و الحدية صفر</p> <p>d. لا شيء مما سبق</p>	<p>3- وضع التوازن بالنسبة للمنشأة هو:</p> <p>a. الوضع الذي تحقق فيه أعلى سعر ممكن.</p> <p>b. الوضع الذي تحقق فيه أعلى انتاج ممكن.</p> <p>c. الوضع الذي تحقق فيه أعلى الارباح الممكنة أو أقل الخسائر الممكنة.</p> <p>d. الوضع الذي يكون فيه السعر مساويا للتكاليف المتوسطة الكلية.</p>
<p>6- في المدى الطويل أو البعيد في الإنتاج</p> <p>a. يكون عنصر رأس المال فقط ثابتا</p> <p>b. تعاني المنشأة من سلبيات الحجم الكبير</p> <p>c. تكون جميع عناصر الإنتاج ثابتة</p> <p>d. تكون فيها جميع عناصر الإنتاج متغيرة</p>	<p>5- تعتبر السلع الحرة الموجودة بكميات وفيرة مثل الماء والهواء موارد:</p> <p>a. اقتصادية.</p> <p>b. غير اقتصادية.</p> <p>c. استهلاكية</p> <p>d. لا شيء مما سبق.</p>
<p>8- تتسبب الزيادة في الدخل بـ :</p> <p>a. تراجع الكميات المطلوبة</p> <p>b. انخفاض الاسعار</p> <p>c. إنتقال منحنى الطلب إلى جهة اليمين</p> <p>d. كل الإجابات أعلاه خطأ</p>	<p>7- إذا كانت المنفعة الحدية للوحدة الأخيرة المستهلكة من السلعة Y ضعف المنفعة الحدية للوحدة الأخيرة المستهلكة من السلعة X فإن المستهلك يكون في حالة توازن فقط إذا:</p> <p>a. كان سعر X ضعف سعر Y</p> <p>b. كان سعر X يساوي Y</p> <p>c. كان سعر X نصف Y</p> <p>d. كان سعر X يساوي 2</p>
<p>10- عندما يرتفع دخل المستهلك فإن مرونة الطلب لديه:</p> <p>a. تقل</p> <p>b. تزيد</p> <p>c. لا تتغير</p> <p>d. لا شيء مما سبق.</p>	<p>9- إذا بقيت الكمية المطلوبة من سلعة ما دون تغيير، بينما تغير سعرها، فإن معامل المرونة السعرية يكون:</p> <p>a. أكبر من 1</p> <p>b. مساويا 1</p> <p>c. أقل من 1</p> <p>d. مساويا صفر</p>
<p>12- السلعة الاقتصادية هي السلعة التي يمكن الحصول عليها</p> <p>a. من السوق</p> <p>b. مقابل ثمن محدد</p> <p>c. من خلال التبادل</p> <p>d. عن طريق الهبات</p>	<p>11- عندما تقدم الدولة مساعدة إلى القطاعات الإنتاجية فإن ذلك يؤدي إلى:</p> <p>a. زيادة الكميات المعروضة</p> <p>b. إنتقال منحنى العرض لجهة اليمين</p> <p>c. خفض تكاليف الإنتاج</p> <p>d. كل ما هو مذكور أعلاه</p>

14- من خصائص اقتصاد السوق:	13- الدخل والذوق يعتبران:
a. ملكية الدولة لعناصر الانتاج	b. من العوامل المؤثرة في العرض
b. حرية التملك والتصرف بعناصر الانتاج	c. من العوامل المؤثرة في الطلب
c. تحديد الاسعار من خلال القرارات الحكومية	d. من العوامل التي يهملها التحليل الإقتصادي
d. غياب المنافسة	e. من العوامل المكملة للطلب

المجموعه الثانية: (4 علامات)

عالج سؤال من الأسئلة التالية:

- 1- عرف الطلب ثم تكلم عن إستثناءات قانون الطلب. (من الكتاب)
- 2- عرف المنفعة و النظرية الكلاسيكية لسلوك المستهلك ثم تكلم عن توازن المستهلك (من الكتاب)
- 3- أذكر الأسباب التي تجعل الطلب على الملح غير مرن (تحليل حسب الكتاب لا يوجد بديل له و حجم الأنفاق على زهيد من مجمل الدخل و حتى لو إرتفع السعر بشكل كبير فلن تنخفض الكمية المطلوبة منه الا بشكل ضئيل)

المجموعه الثالثة: المسألة الإلزامية (9 علامات)

لدينا جدول يحدد البيانات التالية:


عدد الوحدات	المنفعة الحدية للسلعة أ	المنفعة الحدية للسلعة ب
1	10	16
2	9	14
3	8	6
4	7	3
5	6	2
6	5	1

الأسئلة

- 1- حدد الكميات من السلعة أ و ب التي تحققان للمستهلك أقصى إشباع (التوازن) في حدود مصروفة اليومي (3 علامات) (6 من السلعة أ و 3 من السلعة ب و ذلك لتعادل الالمنفعة الكلية لكل منهما)
- 2- ثم أحسب مقدار المنفعة الكلية التي يحصل عليها عند نقطة التوازن (3 علامات) (المنفعة الكلية تساوي 76 و هي عبارة عن المنفعة من أ للسلعة عدد5 أي 10+9+8+7+6 و من السلعة ب لغاية العدد3 أي 16+14+6 يساوي 76)
- 3- إذا ارتفع سعر السلعة ب بما يساوي 2 وحدة نقدية ما هي الكميات الجديدة التي تحققان التوازن للمستهلك (3 علامات) (4 من السلعة أ و 2 من السلعة ب)

المدير

د. محمد علم الدين

امتحانات الدورة الأولى (2019-2020) الفصل : الثاني	أسم المقرر: المباديء الاقتصادية		 الجامعة اللبنانية كلية الحقوق والعلوم السياسية والإدارية الفرع الثالث
	أسم الدكتور: محمد علم الدين، و خليل غزاوي		
مدة الامتحان : ساعة ونصف	الشعبة: A+ B	قسم: الحقوق	
تاريخ الامتحان : 14 أيلول 2020			

تعليمات هامة

- 4- على الطالب تسليم ورقة الاسئلة مع كراس الإجابة. كذلك يمنع الكتابة أو وضع اي إشارة على ورقة الاسئلة.
 5- على الطالب ان يتأكد، على مسؤوليته، انه قد أستلم الكراس المخصص له (يحمل اسمه ورقم امتحانه) قبل ان يعمد المراقب الى لصقه.
 6- يجب على الطالب إبراز بطاقته الجامعية أو وثيقة التعريف به طيلة مدة الامتحان تحت طائلة المسؤولية.

المجموعه الأولى : إختار الجواب الصحيح (نصف علامة على الإجابة الصحيحة) (سبع علامات)

1- عندما تصل المنفعة الكلية إلى أعلى قيمة لها فإن: a. المنفعة الحدية تبدأ بالتناقص. b. المنفعة الحدية تساوي الصفر. c. المنفعة الحدية تكون بالسالب. d. المنفعة الحدية تتناقص بمعدل متزايد.	2- تواجه المنشأة حالة تناقص الغلة عندما يبدأ الناتج الكلي بالتزايد بمعدل: a. متزايد b. متناقص c. ثابت d. أي شي مما سبق
3- وضع التوازن بالنسبة للمنشأة هو: a. الوضع الذي تحقق فيه أعلى سعر ممكن. b. الوضع الذي تحقق فيه أعلى إنتاج ممكن. c. الوضع الذي تحقق فيه أعلى الأرباح الممكنة أو أقل الخسائر الممكنة. d. الوضع الذي يكون فيه السعر مساويا للتكاليف المتوسطة الكلية.	4- حسب نظرية المنفعة فإن نقطة التشبع يتم تحقيقها عندما تصبح: a. المنفعة الحدية صفر b. المنفعة الكلية صفر c. المنفعة الكلية و الحدية صفر d. لا شيئ مما سبق
5- تعتبر السلع الحرة الموجودة بكميات وفيرة مثل الشمس والهواء موارد: a. اقتصادية. b. غير اقتصادية. c. استهلاكية d. لا شي مما سبق.	6- في المدى الطويل أو البعيد في الإنتاج a. يكون عنصر رأس المال فقط ثابتاً b. تعاني المنشأة من سلبيات الحجم الكبير c. تكون جميع عناصر الإنتاج ثابتة d. تكون فيها جميع عناصر الإنتاج متغيرة
7- عندما يرتفع دخل المستهلك فإن مرونة الطلب لديه: a. تقل b. تزيد c. لا تتغير d. لا شيء مما سبق.	8- الدخل و الذوق يعتبران: a. من العوامل المؤثرة في العرض b. من العوامل المؤثرة في الطلب c. من العوامل التي يهملها التحليل الإقتصادي d. من العوامل المكمل للطلب
9- إذا بقيت الكمية المطلوبة من سلعة ما دون تغيير، بينما تغير سعرها، فإن معامل المرونة السعرية يكون: a. أكبر من 1 b. مساويا 1 c. أقل من 1 d. مساويا صفر	10 - إذا كانت المنفعة الحدية للوحدة الأخيرة المستهلكة من السلعة Y ضعف المنفعة الحدية للوحدة الأخيرة المستهلكة من السلعة X فإن المستهلك يكون في حالة توازن فقط إذا: a. كان سعر X ضعف سعر Y b. كان سعر X يساوي Y c. كان سعر X نصف Y d. كان سعر X يساوي 2

<p>12- عندما تقدم الدولة مساعدة إلى القطاعات الانتاجية فإن ذلك يؤدي إلى</p> <p>a- زيادة الكميات المعروضة</p> <p>a. إنتقال منحني العرض لجهة اليمين</p> <p>b. خفض تكاليف الإنتاج</p> <p>c. كل ما هو مذكور أعلاه</p>	<p>11 – السلعة الاقتصادية هي السلعة التي يمكن الحصول عليها</p> <p>a. من السوق</p> <p>b. مقابل ثمن محدد</p> <p>c. من خلال التبادل</p> <p>d. عن طريق الهبات</p>
<p>14- من خصائص اقتصاد السوق</p> <p>a. ملكية الدولة لعناصر الانتاج</p> <p>b. حرية التملك والتصرف بعناصر الانتاج</p> <p>c. تحديد الاسعار من خلال القرارات الحكومية</p> <p>d. غياب المنافسة</p>	<p>13- تتسبب الزيادة في الدخل بـ :</p> <p>b. تراجع الكميات المطلوبة</p> <p>c. إنخفاض الاسعار</p> <p>d. إنتقال منحني الطلب إلى جهة اليمين</p> <p>e. كل الإجابات أعلاه خطأ</p>

المجموعة الثانية: (4 علامات)

عالج سؤال من الأسئلة التالية:

- 4- عرف الطلب ثم تكلم عن إستثناءات قانون الطلب. (من الكتاب)
- 5- عرف المنفعة و النظرية الكلاسيكية لسلوك المستهلك ثم تكلم عن توازن المستهلك (من الكتاب)
- 6- أذكر الأسباب التي تجعل الطلب على الملح غير مرن (تحليل حسب الكتاب لا يوجد بديل له و حجم الأنفاق على زهيد من مجمل الدخل و حتى لو إرتفع السعر بشكل كبير فلن تنخفض الكمية المطلوبة منه الا بشكل ضئيل)

المجموعة الثالثة: المسألة الإلزامية (9 علامات)

لدينا جدول يحدد البيانات التالية:


عدد الوحدات	المنفعة الحدية للسلعة أ	المنفعة الحدية للسلعة ب
1	10	16
2	9	14
3	8	6
4	7	3
5	6	2
6	5	1

الأسئلة

- 10- حدد الكميات من السلعة أ و ب اللتي تحققان للمستهلك أقصى إشباع (التوازن) في حدود مصروفة اليومي (3 علامات) (6 من السلعة أ و 3 من السلعة ب و ذلك لتعادل الامنفعة الكلية لكل منهما
- 11- ثم أحسب مقدار المنفعة الكلية التي يحصل عليها عند نقطة التوازن (3 علامات) (المنفعة الكلية تساوي 76 و هي عبارة عن المنفعة من السلعة عدد5 أي 10+9+8+7+6 و من السلعة ب لغاية العدد3 أي 16+14+6 يساوي 76)
- 12- إذا ارتفع سعر السلعة ب بما يساوي 2 وحدة نقدية ما هي الكميات الجديدة التي تحققان التوازن للمستهلك (3 علامات) (4 من السلعة أ و 2 من السلعة ب)

المدير

د. محمد علم الدين

امتحانات الدورة الأولى خريف ٢٠٢٠ الفصل : الاول	اسم المقرر: المؤسسات القضائية والتنظيم القضائي		 الجامعة اللبنانية كلية الحقوق والعلوم السياسية والإدارية الفرع الثالث
	اسم الدكتور: وهيب الاسبر- محمد زكور		
مدة الامتحان: ساعة ونصف	تاريخ الامتحان: ١٨ ايلول ٢٠٢٠	قسم: الحقوق شعبة: A+B	

تعليمات هامة

- (١) على الطالب تسليم ورقة الاسئلة مع كراس الإجابة. كذلك يمنع الكتابة أو وضع اي إشارة على ورقة الاسئلة.
- (٢) على الطالب ان يتأكد، على مسؤوليته، انه قد أستلم الكراس المخصص له (يحمل اسمه ورقم امتحانه) قبل ان يعمد المراقب الى لصقه.
- (٣) يجب على الطالب إبراز بطاقته الجامعية او وثيقة التعريف به طيلة مدة الامتحان تحت طائلة المسؤولية.

أجب عن سؤال واحد من السؤالين الإختياريين، وعلى المسألة الإلزامية:

السؤال الإختياري الأول:

- تحدث عن مهام كل من:
- مجلس القضاء الأعلى.
 - الرئيس الأول لمحكمة الإستئناف.
 - الأسباب القانونية التي تجيز الطعن بطريق النقض.

السؤال الإختياري الثاني:

- تحدث عن:
- مهام الهيئة العامة لمحكمة التمييز.
 - حالات تدخل وإدخال النيابة العامة الإستئنافية في الدعاوى المدنية بالتفصيل.
 - جميع سلطات وصلاحيات النيابة العامة الإستئنافية.

المسألة الإلزامية:

أقام عمر حامد دعاوى عدّة أمام المحاكم التالية:
أولاً: دعوى مالية أمام الغرفة الإبتدائية المدنية في طرابلس ضد صلاح عمار مطالباً اياه بدفع قيمة دينه البالغة ٩٠ مليون ليرة لبنانية.

ثانياً: طلب تصحيح خطأ مادي شاب إسمه في قرار القاضي العقاري أثناء عملية التحديد والتحرير العقاري.


ثالثاً: طلب إعادة إعتبره وتبييض سجله العدلي من جناية كان قد ارتكبها.

برأيك:

- ١- بالنسبة للدعوى الأولى ما هو القرار الذي ستتخذه المحكمة البدائية، تحدث بالتفصيل.
- ٢- بالنسبة للدعوى الثانية ما هي الجهات الصالحة للبت بتصحيح الخطأ المادي اللاحق بإسم عمر.
- ٣- بالنسبة لطلب إعادة الاعتبار، ما هي الجهة القضائية الصالحة للبت بذلك متحدثاً بالتفصيل عن الإجراءات.

المدير

د. محمد علم الدين

امتحانات الدورة الأولى خريف ٢٠٢٠ الفصل : الاول	اسم المقرر: المدخل الى القانون الموضوعي فرنسي+ انكليزي	 الجامعة اللبنانية كلية الحقوق والعلوم السياسية والإدارة الفرع الثالث
	اسم الدكتور: ريماء الادهمي- عمر الايوبي (ف)- بيار طوبيا (ا)	
مدة الامتحان: ساعة ونصف	تاريخ الامتحان: ٢١ ايلول ٢٠٢٠	قسم: الحقوق شعبة: A+B

تعليمات هامة

- (١) على الطالب تسليم ورقة الاسئلة مع كراس الإجابة. كذلك يمنع الكتابة أو وضع اي إشارة على ورقة الاسئلة.
 (٢) على الطالب ان يتأكد، على مسؤوليته ، انه قد أستلم الكراس المخصص له (يحمل اسمه ورقم امتحانه) قبل ان يعمد المراقب الى لصقه.
 (٣) يجب على الطالب إبراز بطاقته الجامعية او وثيقة التعريف به طيلة مدة الامتحان تحت طائلة المسؤولية.

(فرنسي)

Traitez, au choix deux des quatre questions suivantes:

- ١- Quels sont les caractères de la règle de Droit?
- ٢- Relation entre le Droit et la morale.
- ٣- Exposé du principe de la hiérarchie des normes.
- ٤- Traitez la coutume comme source de la règle de Droit.


(انكليزي)

Choose and answer only one question:

- ١-- Discuss The Main Characteristics Of the Legal Rule.
- ٢ ~ Discuss In Brief :
 - A-The Criminal Law.
 - B- The Law Of Criminal Procedure.
 - C- The Law of Civil Procedure.

المدير

د. محمد علم الدين

امتحانات الدورة الأولى خريف ٢٠٢٠ الفصل : الاول	اسم المقرر: تاريخ القوانين		 الجامعة اللبنانية كلية الحقوق والعلوم السياسية والإدارة الفرع الثالث
	اسم الدكتور: وهيب الاسبر		
مدة الامتحان: ساعة ونصف	تاريخ الامتحان: ٢٣ ايلول ٢٠٢٠	قسم: الحقوق شعبة: A+B	

تعليمات هامة

- (١) على الطالب تسليم ورقة الاسئلة مع كراس الإجابة. كذلك يمنع الكتابة أو وضع اي إشارة على ورقة الاسئلة.
- (٢) على الطالب ان يتأكد، على مسؤوليته ، انه قد أستلم الكراس المخصص له (يحمل اسمه ورقم امتحانه) قبل ان يعمد المراقب الى لصقه.
- (٣) يجب على الطالب إبراز بطاقته الجامعية او وثيقة التعريف به طيلة مدة الامتحان تحت طائلة المسؤولية.

أجب عن مجموعة واحدة فقط:

المجموعة الأولى:


- ١- تحدث عن نظام الدعاوى الذي نص عليه قانون الأحوال الشخصية.
- ٢- المصالح المرسله كمصدر من المصادر المتبعة في الشريعة الإسلامية.

المجموعة الثانية:

- ١- مبادئ العدالة كوسيلة من وسائل تطور الشرائع.
- ٢- أذكر خمس قواعد كلية مع شرحها.

المدير

د. محمد علم الدين

امتحانات الدورة الأولى خريف ٢٠٢٠ الفصل : الاول	اسم المقرر: مدخل الى دراسة العلاقات الدولية		 الجامعة اللبنانية كلية الحقوق والعلوم السياسية والإدارية الفرع الثالث
	اسم الدكتور: كميل حبيب		
مدة الامتحان: ساعة ونصف	تاريخ الامتحان: ٢٣ ايلول ٢٠٢٠	قسم: الحقوق شعبة: A+B	

تعليمات هامة


- (١) على الطالب تسليم ورقة الاسئلة مع كراس الإجابة. كذلك يمنع الكتابة أو وضع اي إشارة على ورقة الاسئلة.
- (٢) على الطالب ان يتأكد، على مسؤوليته، انه قد أستلم الكراس المخصص له (يحمل اسمه ورقم امتحانه) قبل ان يعمد المراقب الى لصقه.
- (٣) يجب على الطالب إبراز بطاقته الجامعية او وثيقة التعريف به طيلة مدة الامتحان تحت طائلة المسؤولية.

ناقش أربعة أسئلة فقط:

- ١- الإعتدال الاقتصادي المتبادل.
- ٢- نظام توازن القوى المتعددة القطبية.
- ٣- الاقتصاد السياسي.
- ٤- المدرسة المثالية.
- ٥- نظريتي الصراع والنزاع.

المدير

د. محمد علم الدين

امتحانات الدورة الأولى خريف ٢٠٢٠ الفصل : الاول	اسم المقرر: قانون البيئة		 الجامعة اللبنانية كلية الحقوق والعلوم السياسية والإدارية الفرع الثالث
	اسم الدكتور: ربيع شندب		
مدة الامتحان: ساعة ونصف	تاريخ الامتحان: ٢٣ ايلول ٢٠٢٠	قسم: الحقوق شعبة: A+B	

تعليمات هامة

- (١) على الطالب تسليم ورقة الاسئلة مع كراس الإجابة. كذلك يمنع الكتابة أو وضع اي إشارة على ورقة الاسئلة.
 (٢) على الطالب ان يتأكد، على مسؤوليته ، انه قد أستلم الكراس المخصص له (يحمل اسمه ورقم امتحانه) قبل ان يعمد المراقب الى لصقه.
 (٣) يجب على الطالب إبراز بطاقته الجامعية او وثيقة التعريف به طيلة مدة الامتحان تحت طائلة المسؤولية.

أجب على سؤالين من الاسئلة الثلاثة التالية :

١. لكل نظام بيئي مكوناته وعناصره الاساسية تحدث عن هذه العناصر.
٢. مهما تباينت تعريفات التلوث الا ان هناك عناصر لا يمكن تجنبها عند تعريف التلوث تحدث عن هذه العناصر.
٣. تحدث عن الحجج التي فندها الاتجاه المنكر لوجود الحق في البيئة.

مع تمنياتي لكم بالتوفيق والنجاح الدائمين.

المدير

د. محمد علم الدين