


امتحانات الدورة الثانية خريف ٢٠٢٠ الفصل : الاول	اسم المقرر: الاموال		 الجامعة اللبنانية كلية الحقوق والعلوم السياسية والإدارة الفرع الثالث
	اسم الدكتور: رامي عبد الحي- غنى مواس		
مدة الامتحان: ساعة ونصف	تاريخ الامتحان: ٢٠٢٠/١١/٢	قسم: الحقوق شعبة: A+B	

### تعليمات هامة

- (١) على الطالب تسليم ورقة الاسئلة مع كراس الإجابة. كذلك يمنع الكتابة أو وضع اي إشارة على ورقة الاسئلة.
- (٢) على الطالب ان يتأكد، على مسؤوليته ، انه قد أستلم الكراس المخصص له (يحمل اسمه ورقم امتحانه) قبل ان يعمد المراقب الى لصقه.
- (٣) يجب على الطالب إبراز بطاقته الجامعية او وثيقة التعريف به طيلة مدة الامتحان تحت طائلة المسؤولية.

### عالج المسألة الإلزامية التالية:


في الأول من ايلول من عام ٢٠١٩، استدان طارق من وسيم بموجب عقد موقع لدى كاتب العدل مبلغ عشرة ملايين ليرة، على أن يستحق الدين بعد عام من تاريخ التوقيع. كما استدان طارق أيضا في نفس اليوم مبلغ خمسة ملايين ليرة من حسان وذلك بموجب عقد موقع لدى كاتب العدل نفسه وعلى ان يستحق الدين أيضاً في الأول من أيلول من العام ٢٠٢٠. طارق الذي يسكن في حي الرميل في الأشرفية تأثر منزله من انفجار مرفأ بيروت الذي حصل في آب من العام ٢٠٢٠.

رغبة منه بعدم متابعة أعمال الترميم لمنزله القديم المتهاوي، وانزعاجاً من الأوضاع المتردية في بلده قرر ترك لبنان، فباع المنزل بثمن دون الثمن الفعلي لمغترب لبناني لا يعلم شيئاً عن أوضاعه. لدى علمه بالأمر، ادعى وسيم على طارق طالباً ابطال عقد البيع لكون طارق لا يملك أي حساب مصرفي يغطي دينه كما أنه لا يملك أي عقار آخر. كما طالب وسيم بإبطال عقد بيع لمخزن كان يملكه طارق وكان الأخير قد قام ببيعه في حزيران من العام ٢٠١٩ على أن يتم الدفع في حزيران من العام ٢٠٢٠، الأمر الذي امتنع المشتري عن القيام به. لدى علم حسان بأن طارق يمتنع عن التحرك ضد مشتري المخزن الذي يتلصق عن الدفع تقدم هو بنفسه بدعوى ضد المشتري طالباً بدفع ما يتوجب عليه. رفض طارق دعوى وسيم لمخالفتها الشروط القانونية كما رفض دعوى حسان بعد تدخله فيها لكونه قد سبق وقدم ضماناً مصرفية تغطي قيمة الدين.

### - عالج النقاط القانونية المثارة.

المدير

د. محمد علم الدين

امتحانات الدورة الثانية خريف ٢٠٢٠ الفصل : الاول	اسم المقرر: القانون الدستوري العام		 الجامعة اللبنانية كلية الحقوق والعلوم السياسية والإدارة الفرع الثالث
	اسم الدكتور: خالد الخير- ريما الادهمي		
مدة الامتحان: ساعة ونصف	تاريخ الامتحان: ٢٠٢٠/١٠/٣١	قسم: الحقوق شعبة: A+B	

### تعليمات هامة


- (١) على الطالب تسليم ورقة الاسئلة مع كراس الإجابة. كذلك يمنع الكتابة أو وضع اي إشارة على ورقة الاسئلة.
- (٢) على الطالب ان يتأكد، على مسؤوليته ، انه قد أستلم الكراس المخصص له (يحمل اسمه ورقم امتحانه) قبل ان يعمد المراقب الى لصقه.
- (٣) يجب على الطالب إبراز بطاقته الجامعية او وثيقة التعريف به طيلة مدة الامتحان تحت طائلة المسؤولية.

### علاج الموضوع الإلزامي متبعا المنهجية المعتمدة:

يلعب الدستور في الدولة الحديثة دوراً أساسياً في تحديد نظامها السياسي وحماية حقوق وحرريات المواطنين، ويسمو بذلك على جميع القواعد القانونية في الدولة.  
ناقش وحلّ.

المدير

د. محمد علم الدين

إمتحانات الدورة الثانية (٢٠١٩-٢٠٢٠) الفصل : الأول	إسم المقرر: المباديء الاقتصادية		 الجامعة اللبنانية كلية الحقوق والعلوم السياسية والإقتصادية الفرع الثالث
	إسم الدكتور: محمد علم الدين و خليل غزاوي		
مدة الامتحان : ساعة ونصف	(شعبة B & A)	قسم: الحقوق	
تاريخ الامتحان : ٢٦ ت ١، ٢٠٢٠			

### تعليمات هامة

- (١) على الطالب تسليم ورقة الاسئلة مع كراس الإجابة. كذلك يمنع الكتابة أو وضع اي إشارة على ورقة الاسئلة.  
 (٢) على الطالب ان يتأكد، على مسؤوليته ، انه قد أستلم الكراس المخصص له (يحمل اسمه ورقم امتحانه) قبل ان يعمد المراقب الى لصقه.  
 (٣) يجب على الطالب إبراز بطاقته الجامعية او وثيقة التعريف به طيلة مدة الامتحان تحت طائلة المسؤولية.

### أجب على كل الاسئلة الواردة أدناه (النسخة A)

١- اختر الإجابة الصحيحة (فقط إجابة واحدة هي الصحيحة) (نصف علامة لكل إجابة صحيحة) (لا حاجة لشرح الإجابة المختارة)

١- عدم توظيف الموارد توظيفاً كاملاً يؤدي إلى: a. انتقال منحى إمكانيات الإنتاج بشكل متوازي نحو اليمين. b. إنتاج كميات من السلع أقل مما يمكن إنتاجه. c. انتقال منحى إمكانيات الإنتاج بشكل غير متوازي نحو اليمين. d. لا شيء مما سبق.	٢- عندما يرتفع دخل المستهلك فإن مرونة الطلب لديه: a. تقل b. تزيد c. لا تتغير d. لا شيء مما سبق
٣- تعتبر السلع الحرة الموجودة بكميات وفيرة مثل الشمس والهواء موارد: a. غير اقتصادية b. اقتصادية c. استهلاكية d. لا شيء مما سبق	٤- انخفاض سعر إحدى السلع من 20 إلى 18 أدى إلى زيادة الكمية المطلوبة من 16 إلى 20 وحدة، يعني أن: a. الطلب غير مرن والإيراد الكلي يتزايد. b. الطلب مرن والإيراد الكلي يتناقص. c. الطلب مرن والإيراد الكلي يتزايد. d. الطلب غير مرن والإيراد الكلي يتناقص.
٥- يترتب على انخفاض عدد المستهلكين في سوق ما: a. الانتقال من نقطة إلى أخرى منحى الطلب b. انتقال منحى الطلب إلى اليسار c. انتقال منحى الطلب إلى اليمين d. انتقال منحى العرض إلى اليسار	٦- أي من الجمل التالية متعلق بالمنفعة الحدية: a. مقدار التغير في المنفعة الكلية لزيادة الاستهلاك في السلعة بمقدار وحدة إضافية واحدة b. مجموع المنافع التي يحصل عليها المستهلك c. لا شيء مما سبق d. كل ما ورد ذكره أعلاه
٧- إن زيادة الطلب مع ثبات العرض تؤدي إلى: a. زيادة كلاً من الكمية والسعر عند نقطة التوازن الجديدة b. زيادة كمية التوازن وانخفاض سعر التوازن عند نقطة التوازن الجديدة c. نقص في كل من الكمية والسعر عند نقطة التوازن الجديدة d. لا شيء مما سبق	٨- الرشد الاقتصادي (rationalité économique) يعني أن: a. المستهلك يحاول توفير أكبر قدر ممكن من دخله للاستفادة منه في المستقبل b. المستهلك يحاول تحقيق أعلى أشباع ممكن في حدود دخله وأسعار السلع المختلفة c. السلع متساوية من حيث درجة التفصيل بالنسبة للمستهلك d. a و c صحيحتان.
٩- إذا انخفض سعر السلعة (س) فإن منحى الطلب على السلعة البديلة (ص) سوف: a. يظل ثابتاً b. ينتقل إلى اليمين c. يتحرك بزواوية قدرها 45 درجة d. ينتقل إلى اليسار	١٠- تفترض نظريه المنفعة أن هدف المستهلك هو تعظيم: a. المنفعة الحدية b. دخله الصافي c. أرباحه الصافية d. المنفعة الكلية

II- يعرض الجدول التالي للكميات المطلوبة والمعروضة وفقاً لحركة الأسعار لسلعة ما خلال فترة زمنية معينة.

الأسئلة المطلوبة (علامة واحدة لكل سؤال):

السعر	الكمية المعروضة	الكمية المطلوبة
١	٢٠	١٧٠
٢	٥٠	١٥٠
٣	٨٠	١٤٠
٤	١٢٠	١٢٠
٥	١٥٠	٨٠
٦	١٧٠	٦٠
٧	١٨٠	٤٠
٨	١٨٠	٣٠

- ١- تحديد نقطة التوازن في هذا السوق من خلال الرسم بياني
- ٢- كيف تفسر العلاقة بين حركة الأسعار وحركة العرض والطلب.
- ٣- ما هي العلاقة بين العرض والطلب عند مستوى الأسعار ٣ (حدد ذلك بيانياً)
- ٤- ما هي العلاقة عند مستوى الأسعار ٥ (حدد ذلك بيانياً)
- ٥- لماذا برأيك لم ترتفع الكميات المعروضة بفعل إرتفاع الأسعار من ٧ إلى

III- أجب إجابة مقتضبة عن الأسئلة التالية: (٥ علامات)

- ١- عدد أنواع المرونة الطلبية الممكنة؟
- ٢- ماهي شروط توازن المستهلك
- ٣- ما الفرق بين السلعة الحرة و السلعة الإقتصادية
- ٤- ما هي الندرة في المشكلة الإقتصادية
- ٥- ما الفرق بين السلع البديلة و المكملة


IV- عالج التمرين التالي: (٥ علامات)

عندما قام بائع بتخفيض سعر التفاح من 6 إلى 4 وحدات نقدية للكيلوغرام الواحد زادت الكمية التي باعها من ٨٠ إلى 90 كيلوغرام.

- a. هل يعتبر الطلب على التفاح مرناً أو غير مرناً؟ لشرح طريقة الحصول على الإجابة (ثلاث علامات)
- b. هل يعتبر قرار البائع بتخفيض سعر التفاح لزيادة مبيعاته قراراً سليماً أو لا؟ إشرح (علامة واحدة)
- c. أدم إجابتك بحساب الإيراد الناشئ عن البيع في الحالتين. ((علامة واحدة))

المدير

د. محمد علم الدين

متحانات الدورة الثانية (٢٠١٩-٢٠٢٠) الفصل : الأول	إسم المقرر: المباديء الاقتصادية		 الجامعة اللبنانية كلية الحقوق والعلوم السياسية والإدارية الفرع الثالث
	إسم الدكتور: محمد علم الدين و خليل غزاوي		
مدة الامتحان : ساعة ونصف	(شعبة B & A)	قسم: الحقوق	
تاريخ الامتحان : ٢٦ ت ١، ٢٠٢٠			

### تعليمات هامة

٤) على الطالب تسليم ورقة الاسئلة مع كراس الإجابة. كذلك يمنع الكتابة أو وضع اي إشارة على ورقة الاسئلة.
٥) على الطالب ان يتأكد، <u>على مسؤوليته</u> ، انه قد استلم الكراس المخصص له (يحمل اسمه ورقم امتحانه) قبل ان يعمد المراقب الى لصقه.
٦) يجب على الطالب إبراز بطاقته الجامعية أو وثيقة التعريف به طيلة مدة الامتحان تحت طائلة المسؤولية.

### أجب على كل الاسئلة الواردة أدناه. (النسخة B)

#### IV- اختر الجواب المناسب (خيار واحد فقط هو الصحيح) (نصف علامة لكل إجابة صحيحة) (لا حاجة لشرح الإجابة المختارة)

٢- تعتبر السلع الحرة الموجودة بكميات وفيرة مثل الشمس والهواء موارد: e. غير اقتصادية f. اقتصادية g. استهلاكية h. لا شيء مما سبق	١- عندما يرتفع دخل المستهلك فإن مرونة الطلب لديه: e. تقل f. تزيد g. لا تتغير h. لا شيء مما سبق
٤- أي من الجمل التالية متعلق بالمنفعة الحدية: e. مقدار التغير في المنفعة الكلية لزيادة الاستهلاك في السلعة بمقدار وحدة إضافية واحدة f. مجموع المنافع التي يحصل عليها المستهلك g. لا شيء مما سبق h. كل ما ذكر أعلاه.	٣- انخفاض سعر إحدى السلع من 20 إلى 18 أدى إلى زيادة الكمية المطلوبة من 16 إلى 20 وحدة، يعني أن: e. الطلب غير مرن والإيراد الكلي يتزايد f. الطلب مرن والإيراد الكلي يتناقص g. الطلب مرن والإيراد الكلي يتزايد h. الطلب غير مرن والإيراد الكلي يتناقص
٦- يترتب على انخفاض عدد المستهلكين في سوق ما: e. الانتقال من نقطة إلى أخرى منحني الطلب f. انتقال منحني الطلب إلى اليسار g. انتقال منحني الطلب إلى اليمين h. انتقال منحني العرض إلى اليسار	٥- الرشد الاقتصادي (rationalité économique) يعني أن: a. المستهلك يحاول توفير أكبر قدر ممكن من دخله للاستفادة منه في المستقبل b. المستهلك يحاول تحقيق أعلى أرباح ممكن في حدود دخله وأسعار السلع المختلفة c. السلع متساوية من حيث درجة التفصيل بالنسبة للمستهلك. d. a و c صحيحتان.
٨- إذا انخفض سعر السلعة (س) إن منحني الطلب على السلعة البديلة (ص) سوف: e. يظل ثابتاً f. ينتقل إلى اليمين g. يتحرك بزاوية قدرها 45 درجة h. ينتقل إلى اليسار	٧- تفترض نظريه المنفعة أن هدف المستهلك هو تعظيم: e. المنفعة الحدية f. دخله الصافي g. أرباحه الصافية h. المنفعة الكلية
١٠- إن زيادة الطلب مع ثبات العرض تؤدي إلى: e. زيادة بكل من الكمية والسعر عند نقطة التوازن الجديدة f. زيادة الكمية وانخفاض السعر عند نقطة التوازن الجديدة g. نقص بكل من الكمية والسعر عند نقطة التوازن الجديدة h. لا شيء مما ذكر أعلاه.	٩- أدى انخفاض سعر سلعة من 20 إلى 18 إلى زيادة الكمية المطلوبة من 16 إلى 20 وحدة، يعني أن: a. الطلب غير مرن والإيراد الكلي يتزايد. b. الطلب مرن والإيراد الكلي يتناقص. c. الطلب مرن والإيراد الكلي يتزايد. d. الطلب غير مرن والإيراد الكلي يتناقص.

٧- يعرض الجدول التالي للكميات المطلوبة والمعروضة وفقاً لحركة الأسعار لسلعة ما خلال فترة زمنية معينة.

الأسئلة المطلوبة (علامة واحدة لكل سؤال):

السعر	الكمية المعروضة	الكمية المطلوبة
١	٢٠	١٧٠
٢	٥٠	١٥٠
٣	٨٠	١٤٠
٤	١٢٠	١٢٠
٥	١٥٠	٨٠
٦	١٧٠	٦٠
٧	١٨٠	٤٠
٨	١٨٠	٣٠

- ٦- تحديد نقطة التوازن في هذا السوق من خلال الرسم بياني
- ٧- كيف تفسر العلاقة بين حركة الأسعار وحركة العرض والطلب.
- ٨- ما هي العلاقة بين العرض والطلب عند مستوى الأسعار ٣ (حدد ذلك بيانياً)
- ٩- ما هي العلاقة عند مستوى الأسعار ٥ (حدد ذلك بيانياً)
- ١٠- لماذا برأيك لم ترتفع الكميات المعروضة عندما ارتفعت الأسعار من ٧ إلى ٨.

VI- أجب إجابة مقتضبة عن الأسئلة التالية: (٥ علامات)


- ٦- عدد أنواع المروونات الطلبية الممكنة؟
- ٧- ماهي شروط توازن المستهلك
- ٨- ما الفرق بين السلعة الحرة و السلعة الإقتصادية
- ٩- ما هي الندرة في المشكلة الإقتصادية
- ١٠- ما الفرق بين السلع البديلة والسلع المكملة

IV- عالج التمرين التالي: (٥ علامات)

- عندما قام البائع بتخفيض سعر التفاح لديه من 6 إلى 4 وحدات نقدية للكيلوغرام الواحد زادت الكمية التي باعها من ٨٠ إلى 90 كيلوغرام.
- d. هل يعتبر الطلب على التفاح مرناً أو غير مرناً؟ إشرح طريقة الحصول على الإجابة؟ (ثلاثة علامات)
  - e. هل يعتبر قرار البائع بتخفيض سعر التفاح لزيادة مبيعاته قراراً سليماً أم لا؟ لماذا؟ (علامة واحدة)
  - f. أدم إجابتك بحساب الإيراد الناشئ عن البيع في الحالتين. (علامة واحدة)

المدير

د. محمد علم الدين

امتحانات الدورة الثانية خريف ٢٠٢٠ الفصل : الاول	اسم المقرر: المدخل الى القانون الموضوعي فرنسي+ انكليزي	 الجامعة اللبنانية كلية الحقوق والعلوم السياسية والإدارة الفرع الثالث
	اسم الدكتور: ريما الادهمي- عمر الايوبي (ف)- بيار طوبيا (ا)	
مدة الامتحان: ساعة ونصف	تاريخ الامتحان: ٢٠٢٠/١١/٦	قسم: الحقوق شعبة: A+B

### تعليمات هامة

- (١) على الطالب تسليم ورقة الاسئلة مع كراس الإجابة. كذلك يمنع الكتابة أو وضع اي إشارة على ورقة الاسئلة.  
 (٢) على الطالب ان يتأكد، على مسؤوليته ، انه قد أستلم الكراس المخصص له (يحمل اسمه ورقم امتحانه) قبل ان يعمد المراقب الى لصقه.  
 (٣) يجب على الطالب إبراز بطاقته الجامعية او وثيقة التعريف به طيلة مدة الامتحان تحت طائلة المسؤولية.

### (فرنسي)

**Traitez, au choix deux des quatre questions suivantes:**

- 1- La méthode classique de division consiste à diviser le Droit en Droit public, Droit prive et disciplines mixtes> Traitez la catégorie du Droit public ainsi que ses subdivisions
- 2- Quelles sont les différences entre le Droit public et le Droit prive ? (comparer le Droit public et le Droit prive)
- 3- L'étude des règles juridiques a travers le monde permet de déduire que le Droit n'est pas identique dans tous les Etats. Il est possible de regrouper les pays selon des systèmes juridiques : le système romano-germanique, le système anglo-saxon, le système de droits socialistes, les systèmes philosophiques ou religieux et les systèmes mixtes.  
Expliquer chacun de ces systèmes juridiques.
- 4- Expliquez comment déterminer le Droit en vigueur (traitez la mise en vigueur de la loi et son abrogation).


### (انكليزي)

**Choose and answer only one question:**

- 1- **Explain** The Concepts Of Ordinary Laws, Decree-Laws, and Urgent Law Bills.
- 2- **Discuss** The General Principles Of Law giving at least one illustrative Example.

المدير

د. محمد علم الدين

امتحانات الدورة الثانية خريف ٢٠٢٠ الفصل : الاول	اسم المقرر: المؤسسات القضائية والتنظيم القضائي		 الجامعة اللبنانية كلية الحقوق والعلوم السياسية والإدارة الفرع الثالث
	اسم الدكتور: وهيب الاسير- محمد زكور		
مدة الامتحان: ساعة ونصف	تاريخ الامتحان: ٢٠٢٠/١١/٥	قسم: الحقوق شعبة: A+B	

### تعليمات هامة

- (١) على الطالب تسليم ورقة الاسئلة مع كراس الإجابة. كذلك يمنع الكتابة أو وضع اي إشارة على ورقة الاسئلة.
- (٢) على الطالب ان يتأكد، على مسؤوليته ، انه قد أستلم الكراس المخصص له (يحمل اسمه ورقم امتحانه) قبل ان يعمد المراقب الى لصقه.
- (٣) يجب على الطالب إبراز بطاقته الجامعية او وثيقة التعريف به طيلة مدة الامتحان تحت طائلة المسؤولية.

## أجب عن سؤالين من الأسئلة التالية:

### السؤال الأول:

ما هي القرارات التي يجوز الطعن بها أثناء المحاكمة المدنية دون انتظار الحكم النهائي؟

### السؤال الثاني:

تحدث عن إجراءات النيابة العامة الاستئنافية في الجرائم المشهودة، هذا من جهة، أما من جهة أخرى فما هي الاجراءات التي تقوم بها النيابة العامة عند وصول قاضي التحقيق الى مسرح الجريمة.


### السؤال الثالث:

تحدث عن القرارات التي يصدرها قاضي التحقيق أثناء وبعد ختام المحاكمة.

المدير

د. محمد علم الدين



امتحانات الدورة الثانية خريف ٢٠٢٠ الفصل : الاول	اسم المقرر: منهجية العلوم القانونية	 الجامعة اللبنانية كلية الحقوق والعلوم السياسية والإدارية الفرع الثالث
	اسم الدكتور: وهيب الاسير- رانيا صليبا	
مدة الامتحان: ساعة ونصف	تاريخ الامتحان: ٢٠٢٠/١٠/٢٨	قسم: الحقوق شعبة: A+B

### تعليمات هامة

- (١) على الطالب تسليم ورقة الاسئلة مع كراس الاجابة. كذلك يمنع الكتابة أو وضع اي إشارة على ورقة الاسئلة.
- (٢) على الطالب ان يتأكد، على مسؤوليته ، انه قد أستلم الكراس المخصص له (يحمل اسمه ورقم امتحانه) قبل ان يعمد المراقب الى لصقه.
- (٣) يجب على الطالب إبراز بطاقته الجامعية او وثيقة التعريف به طيلة مدة الامتحان تحت طائلة المسؤولية.

**القاضي المنفرد المدني في بيروت الناظر بقضايا الاجارات. قرار صادر بتاريخ ١٤/١٠/١٩٩٩ - رشيد خليفة ورفاقه | منصف سلمان.**

بناءً عليه، حيث أن موضوع هذه القضية يدور حول طلب الجهة المدعية الرامي لإسقاط المدعى عليه من الحق بالتمديد القانوني سنداً لنص المادة ١٠ فقرة (و) والإسناداً لأحكام المادة ذاتها فقرة (ز) من القانون الرقم ٩٢١٦٠.

وحيث أنّ المدعى عليه طلب رد هذه الدعوى لعدم الصحة والثبوت ولكونه لم يترك مأجوره، ولأنه وعلى فرض قام بتركه، إلا أنه لم يفعل ذلك سوى لفترة وجيزة من الوقت لم تتجاوز الشهر الواحد على أبعد تقدير- ولأن ولديه - اللذين هما في الجامعة اللبنانية قسم الحقوق بقيا في المأجور بصورة دائمة - ولأن أقوال الشهود لم تثبت واقعة الترك بكل حال طالبا من هذه المحكمة إهمال أقوال الخبيرين شديد - زخور- لعدم الصحة- ودعوة بعض الشهود عند الإقتضاء- للإستماع إليهم أمام هذه المحكمة،

وحيث غني عن البيان أنه يعود للمحكمة بما لها من حق التقدير والدراية إستخلاص الأقوال التي تراها أكثر انسجاماً مع منطق الأمور والواقع وأكثر تمشياً مع قواعد ومجريات كل قضية على حدة - سيما متى تضاربت أقوال الشهود، وسيما أيضاً وهذا هو الأهم متى توافرت معطيات وحقائق مادية أو علمية تسمح للمحكمة بالخلوص لإستنتاج معين وبالتالي إهمال أقوال بعض الشهود لعدم الصحة أو لعدم الدقة- وبالاعتماد على أقوال الشهود الآخرين لا سيما متى شكل هؤلاء الأكثرية الراجحة.

وحيث بالعودة لمجريات هذه الدعوى ولا سيما لأقوال الشهود سواء الذين استمع إليهم الخبير السيد زخور المكلف أمام هذه المحكمة أم الشهود الذين أكدوا على إفادات سبق لهم أن أدلوا بها أمام الخبير المكلف من قبل قاضي العجلة السيد رينيه شديد، نجد أن هؤلاء قد أكدوا على صحة ثبوت حصول واقعة الترك لا سيما منذ العام ١٩٩٦ ولتاريخ أقله منتصف العام ١٩٩٧.

وحيث أن هذا الأخير كان قد قصد بينا إمتلكه في منطقة الجبة وأقام فيه. (أقوال عامل السوبرماركت والسيد الحاج وإفادة المختار المدلى بهما أمام الخبير زخور).

وحيث أن الشاهدة السيدة أمال مراد قد أدلت أمام الخبير الآخر السيد شديد بأنها كانت ترى أحد أقرباء المدعى عليه يتردد على المأجور لا سيما منذ تشرين الاول ١٩٩٦ ولغاية حزيران ١٩٩٧ ( أقوال ناظر البناء المؤيدة لتلك الأقوال).

وحيث لا يعقل وجود الإبنة أو حتى ابن المدعى عليه الآخر بالمأجور ذاته برفقة رجل غريب عنهما حتى ولو كان ابن عمهما، وعلى فرض ثبوت تواجد هذا الأخير وقتذاك بالمأجور ذاته، بوقت لم تثبت به بكل الأحوال وجود أو حصول أية مقطوعية وقتذاك للكهرباء، وكون واقعة الترك من قبل الدعي عليه وأفراد أسرته، قد تحققت على الأقل لمدة ستة أشهر متتالية، في وقت كان فيه هذا الأخير مديناً بشيء من البدلات، ولم يتخذ وقتذاك محلاً يبلغ فيه الإنذار.

وحيث تكون شروط المادة ١٠ فقرة (ز) متحققة ونجد بالتالي أن أقوال وطلبات المدعين محقة ومستوجبة القبول، وينبغي إسقاط المدعى عليه من الحق بالتمديد القانوني.

لذلك، نحكم : أولاً: بإسقاط المدعى عليه من الحق بالتمديد القانوني سنداً للمادة ١٠ فقرة (ز) وإلزامه بالاخلاء فور تبليغ وانبرام الحكم الحالي ومن دون أية مهلة وبتسليم الشقة العائدة لهذه الدعوى للمدعين شاغرة من أي شاغل. ثانياً: بحفظ حق المدعين بالمطالبة بالبدلات المترتبة منذ تاريخ إستحقاقها ولحين الدفع الفعلي...

العدل ص. ٢٧٦- ٢٧٨.


عالج مجموعة واحدة من المجموعتين التاليتين:

المجموعة الاولى:

- ١- عدّد بنود البطاقة التعريفية، واستخرج فقط المراجع والوقائع المادية.
  - ٢- ما هي المواصفات الخاصة للحكم أعلاه؟.
  - ٣- ما هي العناصر التعريفية التي يجب ذكرها عند الإشارة إلى هذا الحكم في سياق البحث، وهل هي متوافرة بكاملها في هذا المصدر؟.
- المجموعة الثانية:  
نظم بطاقة تعريفية للحكم أعلاه.

المدير

د. محمد علم الدين

امتحانات الدورة الثانية خريف ٢٠٢٠ الفصل : الاول	اسم المقرر: تاريخ القوانين		 الجامعة اللبنانية كلية الحقوق والعلوم السياسية والإدارة الفرع الثالث
	اسم الدكتور: وهيب الاسبر		
مدة الامتحان: ساعة ونصف	تاريخ الامتحان: ٢٧/١٠/٢٠٢٠	قسم: الحقوق شعبة: A+B	

### تعليمات هامة

- (١) على الطالب تسليم ورقة الاسئلة مع كراس الإجابة. كذلك يمنع الكتابة أو وضع اي إشارة على ورقة الاسئلة.
- (٢) على الطالب ان يتأكد، على مسؤوليته ، انه قد أستلم الكراس المخصص له (يحمل اسمه ورقم امتحانه) قبل ان يعمد المراقب الى لصقه.
- (٣) يجب على الطالب إبراز بطاقته الجامعية او وثيقة التعريف به طيلة مدة الامتحان تحت طائلة المسؤولية.

### أجب عن مجموعة واحدة فقط:

#### المجموعة الأولى:


- ١- تحدث عن دور الفقه في العصر العلمي.
- ٢- القياس كمصدر من مصادر الشريعة الإسلامية.

#### المجموعة الثانية:

- ١- تحدث عن القانون البريتوري في عصر القانون القديم.
- ٢- السنة كمصدر من مصادر الشريعة الإسلامية.

المدير

د. محمد علم الدين

امتحانات الدورة الثانية خريف ٢٠٢٠ الفصل : الاول	اسم المقرر: قانون البيئة		 الجامعة اللبنانية كلية الحقوق والعلوم السياسية والإدارة الفرع الثالث
	اسم الدكتور: ربيع شندب		
مدة الامتحان: ساعة ونصف	تاريخ الامتحان: ٢٧/١٠/٢٠٢٠	قسم: الحقوق شعبة: A+B	

### تعليمات هامة

- (١) على الطالب تسليم ورقة الاسئلة مع كراس الإجابة. كذلك يمنع الكتابة أو وضع اي إشارة على ورقة الاسئلة.  
 (٢) على الطالب ان يتأكد، على مسؤوليته ، انه قد أستلم الكراس المخصص له (يحمل اسمه ورقم امتحانه) قبل ان يعمد المراقب الى لصقه.  
 (٣) يجب على الطالب إبراز بطاقته الجامعية او وثيقة التعريف به طيلة مدة الامتحان تحت طائلة المسؤولية.


### اجب على سؤالين من الاسئلة الثلاثة التالية :

- ١ عرف البيئة اصطلاحاً.
- ٢ تحدث عن سير النظام البيئي.
- ٣ عدد خصائص حق الانسان في البيئة وتحدث عن احداها.

مع تمنياتي لكم بالتوفيق والنجاح الدائمين.

المدير

د. محمد علم الدين

امتحانات الدورة الثانية خريف ٢٠٢٠ الفصل : الاول	اسم المقرر: مدخل الى دراسة العلاقات الدولية		 الجامعة اللبنانية كلية الحقوق والعلوم السياسية والإدارة الفرع الثالث
	اسم الدكتور: كميل حبيب		
مدة الامتحان: ساعة ونصف	تاريخ الامتحان: ٢٧/١٠/٢٠٢٠	قسم: الحقوق شعبة: A+B	

### تعليمات هامة

- (١) على الطالب تسليم ورقة الاسئلة مع كراس الإجابة. كذلك يمنع الكتابة أو وضع اي إشارة على ورقة الاسئلة.
- (٢) على الطالب ان يتأكد، على مسؤوليته، انه قد أستلم الكراس المخصص له (يحمل اسمه ورقم امتحانه) قبل ان يعمد المراقب الى لصقه.
- (٣) يجب على الطالب إبراز بطاقته الجامعية او وثيقة التعريف به طيلة مدة الامتحان تحت طائلة المسؤولية.

### اختر سؤالين اثنين فقط:

- ١- طباعة النظام الدولي.
- ٢- نظام توازن القوى.
- ٣- المدرسة المثالية، المدرسة الواقعية، والمدرسة الواقعية الجديدة.
- ٤- مفهوم الحرب.

المدير

د. محمد علم الدين